

第一单元

隋唐时期：繁荣与开放的时代

www.jb1000.com (教学资源网服务)

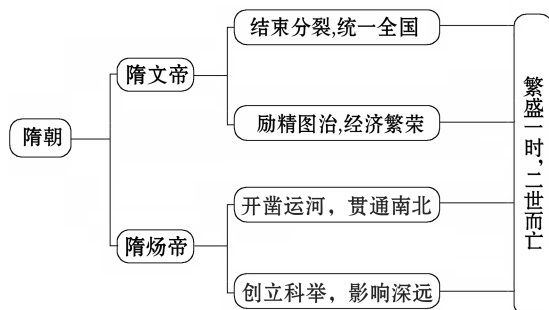
第1课 隋朝的统一与灭亡

目标预览·明方向

目标生成

1. 知道隋朝建立、统一与灭亡的史实。了解隋朝统一的历史意义。
2. 了解隋朝灭亡的原因；分析隋炀帝的功过，学会全面评价历史人物。
3. 掌握隋朝大运河开通的目的、概况和作用，正确评价大运河的历史作用。
4. 了解科举制开创的史实，理解科举制创立的进步意义。

知识预览



新课探知·展身手

一、隋的统一

1. **建立：**_____年，外戚_____夺取北周政权，建立隋朝，定都_____，他就是隋文帝。
2. **统一：**_____年，隋文帝灭掉陈朝，统一全国。
3. **影响：**隋的统一，结束了_____的局面，顺应了统一多民族国家的历史发展大趋势。
4. **巩固：**
 - (1) 措施。
 - ① 经济上：编订_____，统一南北币制和度量衡制度。
 - ② 政治上：加强_____，提高行政效率。
 - (2) 影响：促进了社会经济的迅速恢复和发展，使_____大幅度增长，隋朝成为疆域辽阔、国力强盛的王朝。

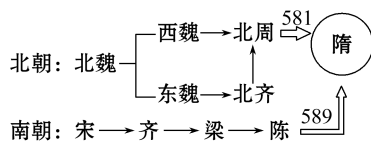
微型视频



隋朝统一

图示点拨

政权分立与隋的统一



二、开通大运河

目的	加强南北交通，巩固隋王朝对全国的_____	
时间	从 605 年起，_____在位时期开通	
影响	加强了_____的政治、经济和文化交流	

微型视频



大运河申遗成功

因果探源

隋朝统一全国的原因

- 提示：(1) 客观上：北方民族大融合，南方经济发展；长期的分裂割据，人民渴望统一；南方陈政权统治的腐败。
- (2) 主观上：隋朝建立后，励精图治，政治稳定，经济繁荣，军事强大；隋为灭陈做了充分准备，战略战术运用得当。

三、开创科举取士制度

1. **背景：**魏晋南北朝时期，官吏的选拔权由上层权贵垄断，选官看重_____。
2. **创立：**
 - (1) 萌芽：_____初步建立起通过考试选拔人才的制度。
 - (2) 确立：隋炀帝时，_____的创立，标志着科举制的正式确立。
3. **评价：**是中国古代_____的一大变革。

4. 影响:

- (1) 加强了皇帝在 _____ 上的权力, 扩大了官吏选拔的范围, 使有才学的人能够由此参政。成为历朝 _____ 的主要制度, 一直维持了约 1 300 年。
- (2) 促进了 _____ 的流动, 同时也推动了 _____ 的发展。

四、隋朝的灭亡

1. 背景: 隋炀帝在位期间, 营建一系列重大工程, 屡次发动战争, 致使民不聊生, 社会矛盾激化。
2. 灭亡: _____ 年, 隋炀帝在江都被叛军杀死, 隋朝灭亡。

【一言辨异】

- (1) 隋朝是一个创新的朝代, 政治上创立了三省六部制和科举制; 工程方面开通了连接南北的大运河。
- (2) 魏晋南北朝时期, 选官标准是按门第和出身, 隋朝创立的科举制度是按才能选官。

史料实证

现在各国的考试制度, 差不多都是学英国的。穷流溯源, 英国的考试制度, 原来是从我们中国学过去的。

——孙中山

解读: 史料表明中国古代的科举制度是世界上最早的考试制度, 明确指出中国古代考试选官制度与现代各国考试制度之间的渊源。这说明, 中国古代的考试选官制度对世界文明发展产生过一定影响。

课堂探究 · 素养

情景再现


隋王朝是富强而短暂的, 存在了三十多年, 却演绎了一段富于开拓创新、精彩纷呈的历史, 给中华民族留下了丰富而影响深远的历史财富, 它所奏响的历史乐章, 堪称中国历史的最强音。



【平一寰宇隋文帝 · 南北统一】

材料一

公元 6 世纪 80 年代, 在结束了 200 多年的分裂局面后, 中国又一次走向统一, 同时中国也迎来了一个繁荣与开放的时代……



(1) 谁完成了材料一中的“中国又一次走向统一”? 这次统一有什么意义?

【毁誉难定隋炀帝 · 制度创新】

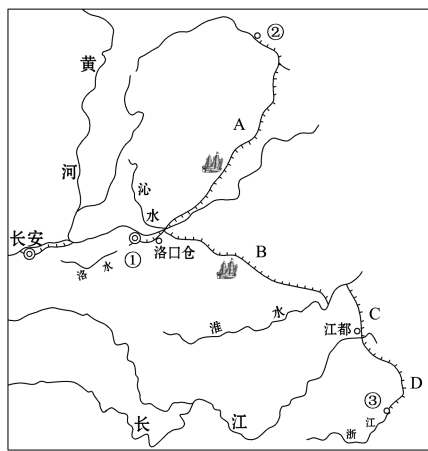
材料二 隋唐科举制……自产生之日起就确立了由政府出面招生, 考生“皆怀牒(证件)自列于州县”的自由报考原则, 不论贵族和平民皆可参加公开考试……举凡政治、经济、军事、文化、天文、地理、民族等各种与国计民生相关的大事, 皆可为考试内容……一切以程文(文章)定去留, 为草野寒酸之士开辟了登仕之途……

——杨齐福《科举制度与近代文化》

(2) 科举制正式确立的标志是什么? 依据材料二归纳科举制度的特点。找出描述科举制度作用的句子。

【毁誉难定隋炀帝 · 建筑奇迹】

材料三



(3) 依次写出材料三中大运河的三点:

- ① _____ ② _____
- ③ _____

(4) 观察地图, 隋炀帝乘“龙舟”从洛阳巡游到扬州, 要经过大运河的哪几段? (写出字母代表及其名称)

(5)结合所学知识指出隋炀帝开通大运河的目的和作用。

(6)依据材料四指出隋朝灭亡的根本原因。综合以上探究隋朝有什么特征?

【毁誉难定隋炀帝·身死国灭】

材料四 百役繁兴,六军不息,竭尽国力,大兴工役,唯其权力意志是用,根本不考虑民众的承受能力。

——袁刚《暴君隋炀帝评价的论辩
——关于暴君之暴的政治分析》


感悟提升

隋朝的统一,结束了三国两晋南北朝以来长期分裂的局面,促进了社会经济的发展;开创了科举制,成为历朝选拔官吏的主要制度;大运河的开凿,加强了我国的南北交通,便利了南北的经济文化交流,促进了古代社会经济的发展。

一课一练·提能力

一、选择题

1. (2019·陕西师大附中模拟)下图是隋朝重大历史事件的时间轴,图中的①、②、③代表相关的历史事件,按事件发生的先后顺序排列,正确的选项是 ()



- A. ①开通运河 ②建立隋朝 ③灭亡陈朝
 B. ①灭亡陈朝 ②建立隋朝 ③开通运河
 C. ①建立隋朝 ②灭亡陈朝 ③隋朝灭亡
 D. ①建立隋朝 ②开通运河 ③灭亡陈朝
2. 自西晋灭亡后,“天下丧乱,四海不一”。长期的分割据,使得“战争相寻”“书轨不同,生人涂炭”。隋朝仅用数月灭陈,成功结束纷乱近 400 年的魏晋南北朝时期。据此判断隋朝统一的有利因素是 ()
- A. 北方民族的大融合 B. 南北经济差距缩小
 C. 广大人民向往统一 D. 南朝陈政权的腐朽
3. (2019·福州闽侯月考)洛阳含嘉仓遗址的考古发掘,印证了隋朝 ()



含嘉仓示意图

- A. 国力强盛 B. 日趋衰落
 C. 奢侈无度 D. 纵情享乐
4. 一位学者评论道:此项工程的发起者隋炀帝“虽使他的朝代缩短了许多年,但给子孙万代带来莫大的好处”。“此项工程”是 ()

- A. 都江堰 B. 灵渠
 C. 赵州桥 D. 大运河
5. 隋朝时期,一批牡丹花从洛阳沿运河运到余杭,依次需要经过 ()
- A. 邗沟、江南河、通济渠
 B. 江南河、通济渠、邗沟
 C. 通济渠、邗沟、江南河
 D. 通济渠、江南河、邗沟
6. 电视专题片《话说运河》有句解说词:“阳刚的一撇是万里长城,阴柔的一捺是京杭运河,这才是一个顶天立地,有血气、有温情的中国人。”那么构成“人”字的这“一捺”的重要作用是 ()
- A. 促进了南北经济文化交流
 B. 解决了北方缺水问题
 C. 便于军事力量的调控
 D. 便于帝王南巡游玩
7. (2019·盐城大丰月考)现在官员提拔都提倡通过严格考察、择优录取。历史上最早建立通过考试选拔人才制度的皇帝是 ()
- A. 隋文帝 B. 隋炀帝 C. 汉高祖 D. 秦始皇
8. 英国大百科全书中说:“我们所知道的最早的考试制度,是中国采用的选举制度,及其定期举行的分科考试。”进士科的创立,标志着科举制的正式确立。它的正式创立者是 ()
- A. 隋文帝 B. 隋炀帝 C. 汉武帝 D. 汉景帝
9. (2019·鞍山铁东月考)科举制从隋朝诞生到清朝被废除,一共在中国历史上存在了约1 300年,被西方人称为是中国的“第五大发明”,影响不可谓不深远。下面的评述中,哪一条与科举制无关 ()
- A. 改变了隋朝以前按出身、门第选官的办法,用考试的方法选拔人才是选官制度的重大进步

- B. 加强了皇帝在选官用人上的权力,有利于维护封建统治
 C. 推动了教育事业发展
 D. 有利于南北地区政治、经济、文化交流
10. 用昙花来形容隋王朝,一下子就抓住了隋朝的基本特征。这个统一中国不足三十年的王朝,在中华帝国的正午时分粉墨登场,留下了浓墨重彩的一笔,起到了承前启后的重要作用。隋朝的基本特征是 ()
- A. 经济繁荣 B. 二世而亡
 C. 短暂而繁荣 D. 节俭盛行

二、非选择题

11. 隋朝的统一,开创了隋唐时期 300 余年的“大一统”局面,为经济、文化的繁荣发展奠定了基础。阅读下列材料,结合所学完成下列问题。

【隋朝兴亡】

材料一 公元 6 世纪 80 年代,在结束了 200 多年的分裂局面后,中国又一次走向统一,同时中国也迎来了一个繁荣与开放的时代……

材料二 (炀帝)遂恣荒淫,登极之初,即建洛邑,每月役丁二百万人。导洛至河及淮,又引沁水达河北,通涿郡……丁男不充,以妇人兼,役而死者大半。
 ——杜佑《通典·历代盛衰户口》

(1) 隋朝使“中国又一次走向统一”是在哪一年? 隋朝犹如一颗流星划过历史的夜空,却很快走向灭亡,其灭亡时间是哪一年?

(2) 材料二中列举了哪些隋炀帝征发人民的史实? 你认为隋朝由盛而速亡的原因有哪些?

【经济繁荣】

材料三

	隋初	隋盛时	结论
人口	三千多万人	四千六百万人	
垦田	一千九百多万顷	五千五百多万顷	
粮仓	长安太仓	洛阳含嘉仓、洛口仓等	

材料四 “计天下储积,得供五六十年。”

——《贞观政要》

(3) 请你完成材料三的结论部分。材料三、四反映了隋朝社会出现了什么景象?

(4) 材料三、四反映的隋朝社会景象出现的原因是什么?

【探究感悟】

(5) 通过上述史实探究,你从中得到怎样的认识?

历史记忆

隋朝大运河是世界上里程最长、规模最大的古代运河,也是最古老的人工运河之一,与长城、坎儿井并称为中国古代的三项伟大工程,它是中国古代劳动人民创造的一项伟大工程,是中国文化地位的象征之一。

大运河凝聚着劳动人民的心血和汗水,显示了中国古代人民的智慧和力量,是中华民族留给世界的宝贵遗产。

